

тема: 5. Изисквания към моторните превозни средства във връзка с превоза. Обхват на видимостта в зависимост от габаритите













точки	К	№	въпрос, отговори	графика
3		5/1.	<p>Допустимата максимална широчина на ППС (с изключение на хладилно или с изотермична надстройка ППС) за движение по пътищата отворени за обществено ползване е:</p> <p>2,25 м</p> <p>2,55 м</p> <p>2,7 м</p> <p>3,0 м</p>	
3		5/2.	<p>При коя от изброените широчини ППС не е извън габаритно?</p> <p>2,35 м</p> <p>2,55 м</p> <p>2,75 м</p> <p>2,95 м</p>	
3		5/3.	<p>Допустимата максимална височина на ППС за движение по пътищата отворени за обществено ползване е:</p> <p>3,75 м</p> <p>4,0 м</p> <p>4,25 м</p> <p>4,5 м</p>	
3		5/4.	<p>При коя от изброените височини ППС не е извън габаритно?</p> <p>3,75 м</p> <p>4,0 м</p> <p>4,25 м</p> <p>4,5 м</p>	
3		5/5.	<p>Допустимата максимална дължина на МПС за превоз на товари е:</p> <p>9 м</p> <p>10 м</p> <p>11 м</p> <p>12 м</p>	
3		5/7.	<p>Допустимата максимална дължина на ремаркета за движение по пътищата отворени за обществено ползване е?</p> <p>9 м</p> <p>10 м</p> <p>11 м</p> <p>12 м</p>	
3		5/8.	<p>Допустимата максимална дължина на състав от ППС за движение по пътищата отворени за обществено ползване е?</p> <p>16,75 м</p> <p>17,50 м</p>	








			18,75 м 19,50 м	
3		5/9.	<p>В кой от изброените случаи ППС трябва да бъде сигнализирано с опознавателния знак “Извънгабаритно пътно превозно средство”?</p> <p>широчината му, включително товара, е 2.8 м</p> <p>височината му, включително товара, е 2.8 м</p> <p>дължината му, включително товара, е 12 м</p>	
3		5/10.	<p>В кой от изброените случаи ППС трябва да бъде сигнализирано с опознавателния знак “Извънгабаритно пътно превозно средство”?</p> <p>широчината му, включително товара, е 2.2 м</p> <p>височината му, включително товара, е 4.2 м</p> <p>дължината му, включително товара, е 12 м</p>	
3		5/11.	<p>В кой от изброените случаи ППС трябва да бъде сигнализирано с опознавателния знак “Извънгабаритно пътно превозно средство”?</p> <p>широчината му, включително товара, е 2.6 м</p> <p>височината му, включително товара, е 4.2 м</p> <p>дължината му, включително товара, е 12 м</p>	
3		5/12.	<p>В кой от изброените случаи ППС трябва да бъде сигнализирано с опознавателния знак “Извънгабаритно пътно превозно средство”?</p> <p>височината му, включително товара, е 2.6 м</p> <p>височината му, включително товара, е 3.5 м</p> <p>височината му, включително товара, е 4.6 м</p> <p>височината му, включително товара, е 4.2 м</p>	
3		5/13.	<p>Масата с товар на превозното средство включва:</p> <p>масата на превозното средство</p> <p>масата на водача и пътниците в него</p> <p>масата на товара</p> <p>само масата на превозното средство и масата на товара</p>	
3		5/14.	<p>"Допустима максимална маса" на превозното средство е:</p> <p>разрешената максимална маса в натоварено състояние, определена за допустима от компетентните органи</p> <p>максималната маса в натоварено състояние, посочена от производителя</p> <p>масата на превозното средство и масата на товара</p> <p>максималната масата на превозното средство, с водача и пътниците в него</p>	
3		5/15.	<p>Технически допустима максимална маса на превозното средство е:</p> <p>максималната маса в натоварено състояние, посочена от производителя, допустима за неговата конструкция и производствено изпълнение</p> <p>максималната маса в натоварено състояние, определена за допустима от контролните органи</p>	











			масата на превозното средство и масата на товара, който може да поеме товарното пространство на превозното средство	
3		5/16.	Движението на извънгабаритни ППС е забранено: при намалена видимост под 50м при поледица по пътищата през тъмната част на денонощието при ограничена видимост	
3		5/17.	Движението на извънгабаритни ППС е забранено при намалена видимост под: 50 м 100 м 150 м 200 м	
3		5/18.	Движението на извънгабаритни ППС е забранено през тъмната част от денонощието. правилно неправилно	
3		5/19.	В кой от посочените случаи е забранено движението на извънгабаритни ППС? през тъмната част на денонощието при поледица по пътищата в часовете с максимална интензивност на движението през празнични и пред празнични дни	
3		5/20.	Движението на извънгабаритни ППС е забранено в часовете с максимална интензивност на движението. правилно неправилно	
3		5/21.	Разрешено ли е движението на извънгабаритни ППС без разрешително от съответната администрация управляваща пътя? да не	
3		5/22.	Разрешението за движение на извънгабаритно ППС през повече от две съседни области се издава от? Агенция "Пътна инфраструктура" МВР Изпълнителна агенция „Автомобилна администрация“ Областните управители на съответните области	
3		5/23.	Разрешение за движение на извънгабаритно ППС между две съседни области се издава от: областното пътно управление, от чиято територия тръгва ППС областното пътно управление, на чиято територия завършва превоза областните пътни управления, през чиято територия се извършва превоза	

3		5/24.	<p>Разрешение за движение на извънгабаритно ППС по местни пътища се издава от:</p> <p>собственика на пътя</p> <p>Агенция “Пътна инфраструктура”</p> <p>областната дирекция на МВР</p> <p>областният отдел на ИА „АА”</p>	
3		5/25.	<p>Разрешение за движение на извънгабаритно ППС по пътища в населените места се издава от:</p> <p>съответната община</p> <p>Агенция “Пътна инфраструктура”</p> <p>съответният областен отдел „Пътна полиция”</p> <p>областният отдел на ИА „АА”</p>	
3		5/26.	<p>Извънгабаритните ППС трябва да се съпровождат със специално обозначен автомобил, когато общата им маса надвишава:</p> <p>60 т</p> <p>50 т</p> <p>40 т</p> <p>30 т</p>	
3		5/27.	<p>Извънгабаритните ППС трябва да бъдат сигнализирани с опознавателни знаци “Извънгабаритно ППС”:</p> <p>на предната част на автомобила</p> <p>на задната част на автомобила</p> <p>от страни на автомобила</p> <p>над кабината на автомобила</p>	
3		5/28.	<p>Извънгабаритните ППС с дължина над 12 м трябва да бъдат сигнализирани на страничните и задната повърхности с:</p> <p>жълти, бели или червени светлоотразителни ленти</p> <p>непрекъснати или прекъснати сини светлоотразителни ленти</p> <p>допълнителни табели с пояснителен надпис</p>	
3		5/29.	<p>Извънгабаритните ППС с дължина по-голяма от 22 м, освен опознавателен знак и светлоотразителните ленти, трябва да имат и табела, указваща тяхната дължина.</p> <p>правилно</p> <p>неправилно</p>	
3		5/30.	<p>Теглещото МПС на извънгабаритен състав от ППС трябва да бъде сигнализирано с:</p> <p>три еднакви светещи тела с оранжева светлина</p> <p>включени аварийни светлини</p> <p>включени дълги светлини</p>	
3		5/31.	<p>Автомобилите съпровождащи извънгабаритните ППС се сигнализират:</p> <p>с опознавателен знак “извънгабаритно ППС”</p> <p>знак “Внимание! Други опасности”</p> <p>само с изображението на пътен знак “Внимание! Други</p>	

			опасности“ само с опознавателен знак “извънгабаритно ППС”	
3		5/32.	Автомобилите съпровождащи извънгабаритните ППС се сигнализират с поне една жълта мигаща или проблъсваща светлина, видима от останалите участници в движението. правилно неправилно	
3		5/33.	Автомобилите съпровождащи извънгабаритните ППС трябва да се движат с включени: къси светлини дълги светлини аварийни светлини	
3		5/34.	Контролът на извънгабаритните ППС при движение по пътищата се осъществява от агенция “Пътна инфраструктура” със съдействието на съответната служба за контрол при МВР. правилно неправилно	
3		5/35.	С устройства за ограничаване на скоростта, независимо от датата на първата им регистрация, трябва да бъдат оборудвани МПС за превоз на товари с технически допустима максимална маса: над 7,5 т над 10 т над 12 т	
3		5/36.	Устройството за ограничаване на скоростта на МПС за превоз на товари с технически допустима максимална маса над 12 т, трябва да е настроено така, че максималната им скорост да не надвишава: 80 км/ч 90 км/ч 100 км/ч	
3		5/37.	Основната функция на устройството за ограничаване на скоростта е да управлява подаването на гориво към двигателя с цел ограничаване скоростта на превозното средство до определената стойност: правилно неправилно	
3		5/38.	Кои от изброените участници в движението са най-зактрашени при попадане в мъртвите зони на видимост на товарния автомобил? мотоциклетистите велосипедистите водачи на самоходни машини водачи на бавнодвижещи се ППС	
3		5/39.	С този опознавателен знак се обозначават: товарните автомобили с допустима максимална маса над 3500 кг и дължина над 7 м	

		<p>всички товарни автомобили</p> <p>товарните автомобили с допустима максимална маса над 3500 кг, като дължината на МПС е без значение</p>	
3	5/40.0	<p>С този опознавателен знак се обозначават:</p> <p>товарните автомобили с допустима максимална маса над 3500 кг и дължина над 7 м</p> <p>всички товарни автомобили</p> <p>товарните автомобили с допустима максимална маса над 3500 кг, като дължината на МПС е без значение</p>	
3	5/40.1	<p>С този опознавателен знак се обозначават:</p> <p>товарните автомобили с допустима максимална маса над 3500 кг и дължина над 7 м</p> <p>товарните автомобили с допустима максимална маса над 2500 кг и дължина над 5 м</p> <p>всички товарни автомобили</p>	
3	5/41.	<p>С този опознавателен знак се обозначават:</p> <p>товарните автомобили с допустима максимална маса над 3500 кг и дължина над 7 м</p> <p>товарните автомобили с допустима максимална маса над 2500 кг и дължина над 5 м</p> <p>всички товарни автомобили</p>	
3	5/42.0	<p>С кой от опознавателните знаци се обозначават товарните автомобили с допустима максимална маса над 3500 кг и дължина над 7 м?</p> <p>     </p> <p>а. б. в. г.</p>	
3	5/42.1	<p>С кой от опознавателните знаци се обозначават товарните автомобили с допустима максимална маса над 3500 кг и дължина над 7 м?</p> <p>     </p> <p>а. б. в. г.</p>	
3	5/42.2	<p>С кой от опознавателните знаци се обозначават товарните автомобили с допустима максимална маса над 3500 кг и дължина над 7 м?</p>	

			 <p>а. б. в. г.</p>
3	5/42.3	<p>С кой от опознавателните знаци се обозначават товарните автомобили с допустима максимална маса над 3500 кг и дължина над 7 м?</p>  <p>а. б. в. г.</p>	
3	5/43.	<p>С този опознавателен знак се обозначават: ремаркетата, включително и полуремаркетата само полуремаркетата всички ремаркетата, с изключение на полуремаркетата</p>	
3	5/44.	<p>С този този опознавателен знак се обозначават: ремаркетата полуремаркетата товарните автомобили с допустима максимална маса над 3,5 тона товарните автомобили с допустима максимална маса над 7,5 тона</p>	
3	5/45.0	<p>С този опознавателен знак се обозначават: само ремаркетата с маса над 750 кг всички ремаркета, независимо от тяхната маса само ремаркетата с две и повече оси всички ремаркета, независимо от броя на осите</p>	
3	5/45.1	<p>Кои от посочените превозни средства се обозначават с този опознавателен знак? ремаркетата с две и повече оси едноосните ремаркета товарните автомобили съставите от ППС при теглене на повреден автомобил</p>	
3	5/46.0	<p>С кой от опознавателните знаци се обозначават полуремаркетата?</p> 	

			а.	б.	в.	г.
3	5/46.1	С кой от опознавателните знаци се обозначават ремаркетата?				
			а.	б.	в.	г.
3	5/46.2	С кой от опознавателните знаци се обозначават ремаркетата?				
			а.	б.	в.	г.
3	5/47.	С този опознавателен знак се обозначават: бавнодвижещи се МПС извънгабаритни МПС МПС, превозващи опасен товар				
3	5/48.	С този опознавателен знак се обозначават: бавнодвижещи се МПС извънгабаритни ППС МПС, превозващи опасен товар				
3	5/49.	С такъв опознавателен знак се обозначават: МПС, превозващи опасен товар бавнодвижещи се МПС МПС с извънгабаритен товар				