















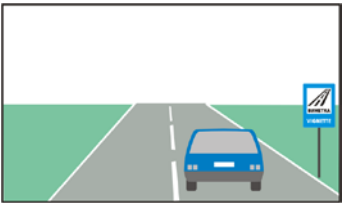






































тема: 2. ПЪТИЩАТА И УЛИЦИТЕ, ПО КОИТО СЕ ДВИЖИМ
















точ ки	К	№	въпрос, отговори	графика
2		2/1.0	<p><b>Значението на този пътен знак е:</b></p> <p>път с предимство</p> <p>премини, ако пътят е свободен</p> <p>пропусни насрещно движещите се ППС</p> <p>внимание, кръстовище</p>	
2		2/1.1	<p><b>Кой от знаците сигнализира, че пътят, по който се движите, е с предимство?</b></p> <p> а.  б.  в.  г.</p>	
2		2/2.	<p><b>Кой знак означава “Край на пътя с предимство”?</b></p> <p> а.  б.  в.  г.</p>	
2		2/3.0	<p><b>Номерът на път по международната класификация се означава с:</b></p> <p> а.  б.  в.</p>	
2		2/3.1	<p><b>Номерът на автомагистрала по националната класификация се означава с:</b></p> <p> а.  б.  в.</p>	
2		2/4.0	<p><b>Този пътен знак сигнализира:</b></p> <p>че за използването на пътя се изисква платена винетна такса</p> <p>двупосочно движение след знака</p> <p>автомобилен път</p> <p>броя на пътните ленти за движение в една посока</p>	
2		2/4.1	<p><b>При тази ситуация пътният знак сигнализира, че:</b></p> <p>за използването на пътя се изисква платена винетна такса</p> <p>маркировката, която отделя пътните ленти е разрешена за пресичане</p> <p>и двете пътни ленти са предназначени за движение в една посока</p>	
2		2/5.0	<p><b>Този пътен знак предупреждава за:</b></p> <p>опасен завой надясно</p> <p>опасност ППС да излезе от пътя надясно</p> <p>кръстовище, на което задължително трябва да се завие надясно</p> <p>място за паркиране край пътя</p>	



2	2/5.1	<p><b>Този пътен знак предупреждава за:</b></p> <p>опасен завой наляво</p> <p>опасност ППС да излезе от пътя наляво</p> <p>кръстовище, на което задължително трябва да се завие наляво</p> <p>опасен наклон на пътя</p>	
2	2/6.0	<p><b>Този пътен знак предупреждава за:</b></p> <p>последователни опасни завои, първият от които е наляво enter</p> <p>последователност от стръмни изкачвания и спускания</p> <p>опасност от хлъзгане</p> <p>препятствие, което трябва да бъде заобиколено отляво</p>	
2	2/6.1	<p><b>Този пътен знак предупреждава за:</b></p> <p>последователни опасни завои, първият от които е надясно</p> <p>последователност от стръмни изкачвания и спускания</p> <p>опасност от хлъзгане</p> <p>препятствие, което трябва да бъде заобиколено отдясно</p>	
2	2/7.0	<p><b>Кой от пътните знаци предупреждава, че ще навлезете в опасен завой?</b></p> <p>   </p> <p>а. б. в. г.</p>	
2	2/7.1	<p><b>Кой от пътните знаци предупреждава, че ще навлезете в опасен завой?</b></p> <p>   </p> <p>а. б. в. г.</p>	
2	2/7.2	<p><b>Кой от пътните знаци предупреждава, че ще навлезете в опасен завой?</b></p> <p>   </p> <p>а. б. в. г.</p>	
2	2/7.3.	<p><b>Кой от пътните знаци предупреждава, че ще навлезете в опасен завой?</b></p> <p>   </p> <p>а. б. в. г.</p>	
2	2/8.0	<p><b>Как се променя устойчивостта на превозното средство, когато при навлизане в завой се увеличава скоростта?</b></p> <p>се влошава</p> <p>се подобрява</p> <p>не се променя</p>	
2	2/8.1	<p><b>При навлизане в завой, с увеличаването на скоростта, устойчивостта на превозното средство се подобрява.</b></p> <p>неправилно</p> <p>правилно</p>	



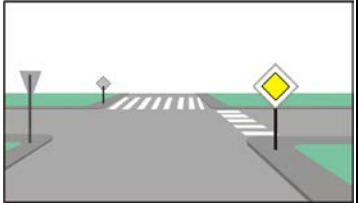
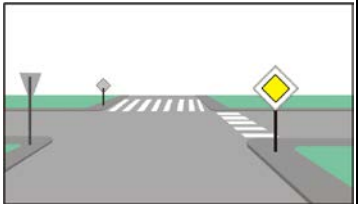


2		2/8.2	<p><b>При навлизане в завой, с увеличаването на скоростта, устойчивостта на превозното средство се влошава.</b></p> <p>правилно неправилно</p>	
2		2/9.	<p><b>При движение на превозното средство в завой, с висока скорост, най-опасно е:</b></p> <p>възможното странично хлъзгане на автомобила ускореното неправилното износване на протектора на гумите ускореното износване на кормилната уредба ускореното износване на окачването</p>	
2		2/10.0	<p><b>При движение в завой радиусът на завоя оказва ли влияние на устойчивостта на превозното средство?</b></p> <p>да не</p>	
2		2/10.1	<p><b>Как се променя устойчивостта на превозното средство, при движение в завой, с намаляване на радиуса на завоя?</b></p> <p>влошава се подобрява се не се променя</p>	
2		2/11.0	<p><b>Този пътен знак предупреждава за:</b></p> <p>опасен пътен банкет хлъзгав участък от пътя неравности по пътя начин на паркиране</p>	
2		2/11.1	<p><b>Кой от пътните знаци предупреждава за опасен пътен банкет?</b></p> <p> а.  б.  в.  г.</p>	
2		2/12.0	<p><b>Този пътен знак предупреждава, за приближаване към:</b></p> <p>платно за движение, стеснено от двете страни мост тунел съоръжение за аварийно спиране</p>	
2		2/12.1	<p><b>Този пътен знак предупреждава за:</b></p> <p>стесняване на платното за движение отляво промяна в наклона на пътя вливане на пътна лента отляво опасен пътен банкет отляво</p>	
2		2/12.2	<p><b>Този пътен знак предупреждава за:</b></p> <p>платно за движение, стеснено отдясно опасен пътен банкет отдясно крайпътен обект отдясно намаляване на броя на пътните ленти</p>	

2	2/13.0	<p>Кой от пътните знаци предупреждава, че платното за движение е стеснено отдясно?</p>  <p>а. б. в. г.</p>	
2	2/13.1	<p>Кой от пътните знаци предупреждава за стеснение на платното за движение?</p>  <p>а. б. в. г.</p>	
2	2/13.2	<p>Кой от пътните знаци предупреждава за стеснение на платното за движение?</p>  <p>а. б. в. г.</p>	
2	2/13.3	<p>Кой от пътните знаци предупреждава за стеснение на платното за движение?</p>  <p>а. б. в. г.</p>	
2	2/13.4	<p>Кой от пътните знаци предупреждава за стеснение на платното за движение?</p>  <p>а. б. в. г.</p>	
2	2/14.	<p>Значението на този пътен знак е:  <b>Внимание! Други опасности</b>          Внимание! Пешеходна пътека          Внимание! Спри!          Внимание! Деца</p>	
2	2/15.0	<p>Кой от пътните знаци предупреждава за стръмен наклон при спускане?</p>  <p>а. б. в. г.</p>	
2	2/15.1	<p>Кой от пътните знаци предупреждава за стръмен наклон при изкачване?</p>  <p>а. б. в. г.</p>	


2	2/16	<p>Кой от пътните знаци предупреждава за опасност от хлъзгане?</p>  <p>а.                      б.                      в.                      г.</p>	
2	2/17.0	<p>Допълнителният контур с жълтозелен флуоресцентен светоотразителен фон, около пътния знак, означава, че:</p> <p>пешеходната пътека се намира в участък от пътя, на който често стават произшествия</p> <p>пешеходната пътека не е осветена</p> <p>след пешеходната пътека следва участък от пътя в ремонт</p> <p>има интензивно движение на пешеходци</p>	
2	2/17.1	<p>Допълнителният контур с жълтозелен флуоресцентен светоотразителен фон, около пътния знак, означава, че:</p> <p>в този участък от пътя често стават произшествия</p> <p>знакът е валиден само при мокър път</p> <p>следва участък от пътя в ремонт</p> <p>ограничението се отнася само за товарните автомобили</p>	
2	2/17.2	<p>При тази ситуация, жълтозеленият флуоресцентен светоотразителен фон, върху който е поставен пътният знак:</p> <p>сигнализира, че пътният участък е с концентрация на пътнотранспортни произшествия</p> <p>указва, че е забранено и изпреварването</p> <p>указва, че ограничението на скоростта се спазва само при движение в завой</p> <p>указва, че следва участък от пътя в ремонт</p>	
2	2/18.0	<p>Този пътен знак сигнализира:</p> <p>че следва участък от пътя с концентрация на произшествия</p> <p>че пътят навлиза в тунел</p> <p>за опасност от паднали камъни на пътя</p> <p>участък от пътя в ремонт</p>	
2	2/18.1	<p>При тази ситуация пътните знаци сигнализират че:</p> <p>следва участък от пътя с концентрация на пътнотранспортни произшествия</p> <p>следва участък от пътя в ремонт</p> <p>съществува опасност от паднали камъни на пътя</p> <p>след завоя пътят навлиза в тунел</p>	
2	2/19.0	<p>Този знак предупреждава за възможна опасност от:</p> <p>работещи хора на платното за движение или в обхвата на пътя</p> <p>строителни машини на платното за движение</p> <p>неравности по платното за движение</p> <p>играещи деца на платното за движение</p>	
2	2/19.1	<p>След този пътен знак:</p> <p>на платното за движение може да има работещи хора</p> <p>може да има препятствия по платното за движение</p> <p>пътят е затворен за движение</p> <p>паркирането е забранено</p>	











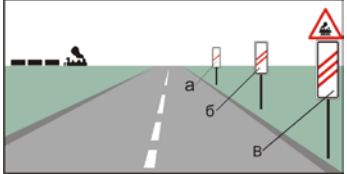
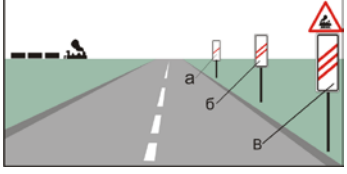
2	2/20.	<p><b>Този пътен знак:</b></p> <p>предупреждава, че следва участък от пътя в ремонт</p> <p>забранява извършването на ремонтни работи по пътя</p> <p>указва място за извършване на товарно-разтоварна дейност на пътя</p> <p>сигнализира, че пътният участък е с концентрация на произшествия</p>	
2	2/21	<p><b>Този пътен знак:</b></p> <p>предупреждава за място, където на пътя излизат велосипедисти</p> <p>сигнализира участък от пътя, по който е забранено движението на велосипедисти</p> <p>указва начало на велосипедна алея</p> <p>указва начало на път само за велосипедисти</p>	
2	2/22.0	<p><b>Кой знак предупреждава за неравности по платното за движение?</b></p> <p>   </p> <p>а. б. в. г.</p>	
2	2/22.1	<p><b>Кой знак предупреждава за изкуствени неравности по платното за движение?</b></p> <p>   </p> <p>а. б. в. г.</p>	
2	2/23.0	<p><b>Този пътен знак:</b></p> <p>предупреждава за кръстовище с път без предимство</p> <p>указва, че на следващото кръстовище задължително трябва да се премине на право</p> <p>сигнализира за край на пътя с предимство</p> <p>сигнализира за начало на пътя с предимство</p>	
2	2/23.1	<p><b>Този пътен знак:</b></p> <p>предупреждава за кръстовище с път отдясно, който е без предимство</p> <p>указва посоки за преминаване на следващото кръстовище</p> <p>сигнализира място за спиране край пътя</p> <p>сигнализира за уширение на платното за движение</p>	
2	2/23.2	<p><b>Този пътен знак:</b></p> <p>предупреждава за кръстовище с път отляво, който е без предимство</p> <p>указва задължителна посока за преминаване през следващото кръстовище</p> <p>сигнализира за пресичане на равнозначни пътища</p> <p>сигнализира място за спиране край пътя</p>	
2	2/24.0 enter	<p><b>Кой от пътните знаци предупреждава за кръстовище с път без предимство?</b></p> <p>   </p> <p>а. б. в. г.</p>	

2	2/24.1	<p>Кой от пътните знаци предупреждава за кръстовище с път без предимство?</p>  <p>а. б. в. г.</p>	
2	2/24.2.	<p>Кой от пътните знаци предупреждава за кръстовище с път без предимство?</p>  <p>а. б. в. г.</p>	
2	2/25.0	<p>Този пътен знак:</p> <p>предупреждава за кръстовище, на което се пресичат равнозначни пътища</p> <p>указва началото на участък от пътя, в който е забранено навлизането</p> <p>сигнализира участък от пътя, по който са забранени престоят и паркирането</p> <p>сигнализира за край на пътя с предимство</p>	
2	2/25.1	<p>Кой от пътните знаци предупреждава за приближаване към кръстовище на равнозначни пътища?</p>  <p>а. б. в. г.</p>	
2	2/26.0	<p>Този пътен знак предупреждава за:</p> <p>кръстовище с кръгово движение</p> <p>място, на което задължително се завива в обратна посока</p> <p>участък от пътя, по който е забранено да се завива в обратна посока</p> <p>остров на платното за движение</p>	
2	2/26.1	<p>Кой от пътните знаци предупреждава за приближаване към кръстовище с кръгово движение?</p>  <p>а. б. в. г.</p>	
2	2/27.0	<p>Кой от пътните знаци предупреждава за приближаване към кръстовище?</p>  <p>а. б. в. г.</p>	
2	2/27.1	<p>Кой от пътните знаци предупреждава за приближаване към кръстовище?</p>  <p>а. б. в. г.</p>	

2	2/27.2	<p>Кой от пътните знаци предупреждава за приближаване към кръстовище?</p>  <p>а. б. в. г.</p>	
2	2/27.3	<p>Кой от пътните знаци предупреждава за приближаване към кръстовище?</p>  <p>а. б. в. г.</p>	
2	2/28.	<p><b>На пътя пешеходни пътеки са:</b></p> <p>продълженията на тротоарите и пътните банкети върху платното за движение</p> <p>очертаните с пътна маркировка места за преминаване на пешеходците през платното за движение</p> <p>сигнализираните с пътен знак места за преминаване на пешеходците</p> <p>само местата обозначени с пътна маркировка тип „Зебра“</p>	
2	2/29.	<p><b>На кръстовище, на пешеходците е разрешено да преминават през платното за движение по продължението на тротоара:</b></p> <p>когато продължението е очертано с пътна маркировка</p> <p>когато продължението не е очертано с пътна маркировка</p> <p>само когато това е указано с пътен знак</p> <p>само когато продължението е очертано с пътна маркировка тип „Зебра“</p>	
2	2/30.	<p><b>При тази ситуация пешеходецът пресича платното за движение по пешеходна пътека.</b></p> <p>правилно</p> <p>неправилно</p>	
2	2/31.	<p><b>Когато в близост няма пешеходна пътека на пешеходците е разрешено да пресичат платното за движение извън определените за това места:</b></p> <p>по пътища извън населените места</p> <p>по двулентовите двупосочни пътища в населените места</p> <p>на пътните възли на автомагистралите</p> <p>по всички пътища отворени за обществено ползване</p>	
2	2/32	<p><b>Този пътен знак:</b></p> <p>предупреждава водачите за приближаване към пешеходна пътека</p> <p>обозначава точното място на пешеходна пътека</p> <p>указва началото на път само пешеходци</p> <p>предупреждава за кръстовище с интензивно преминаване на пешеходци</p>	
2	2/33.0	<p>Кой от пътните знаци предупреждава за приближаване към пешеходната пътека?</p>  <p>а. б. в. г.</p>	



2	2/33.1	<p>Кой от пътните знаци предупреждава за приближаване към място, където през платното за движение преминават пешеходци?</p>  <p>а.                      б.                      в.                      г.</p>
2	2/34.0	<p><b>Този пътен знак:</b>  <b>обозначава точното място на пешеходна пътека</b>  предупреждава водачите, че приближават пешеходна пътека  сигнализира началото на задължителен път само за пешеходци  указва начало на пешеходен маршрут</p> 
2	2/34.1	<p>Кой от пътните знаци обозначава точното място на пешеходната пътека?</p>  <p>а.                      б.                      в.                      г.</p>
2	2/35.0	<p><b>Този пътен знак предупреждава за приближаване към:</b>  <b>железопътен прелез без бариери</b>  железопътен надлез  железопътна гара  железопътен прелез с автоматични бариери</p> 
2	2/35.1	<p>Кой от пътните знаци предупреждава за приближаване към железопътен прелез без бариери?</p>  <p>а.                      б.                      в.                      г.</p>
2	2/36.0	<p><b>Този пътен знак предупреждава за приближаване към:</b>  <b>железопътен прелез с бариери</b>  подвижен мост  трамвайна линия  път затворен за обществено ползване</p> 
2	2/36.1	<p>Кой от пътните знаци предупреждава за приближаване към железопътен прелез с бариери?</p>  <p>а.                      б.                      в.                      г.</p>
2	2/37.	<p>Кой от пътните знаци предупреждава за приближаване към железопътен прелез?</p>  <p>а.                      б.                      в.                      г.</p>

2	2/38.0	<p><b>Този пътен знак:</b></p> <p>сигнализира, че железопътният прелез е с два или повече коловоза</p> <p>забранява преминаването без спиране</p> <p>указва място за задължително спиране</p> <p>сигнализира, че железопътният прелез е с един коловоз</p>	
2	2/38.1	<p><b>Кой от пътните знаци указва, че железопътният прелез е с два или повече коловоза?</b></p> <p>а.  б.  в.  г. </p>	
2	2/39.0	<p><b>Този пътен знак:</b></p> <p>сигнализира, че железопътният прелез е с един коловоз</p> <p>забранява навлизането срещу знака</p> <p>предупреждава за кръстовище на равнозначни пътища</p> <p>сигнализира, че железопътният прелез е с два или повече коловоза</p>	
2	2/39.1	<p><b>Кой знак указва, че железопътният прелез е с един коловоз?</b></p> <p>а.  б.  в.  г. </p>	
2	2/40.0	<p><b>На показаната схема с буква „а“ е означен пътният знак, който сигнализира, че разстоянието до железопътния прелез е:</b></p> <p>80 м</p> <p>160 м</p> <p>240 м</p>	
2	2/40.1	<p><b>На показаната схема с буква „б“ е означен пътният знак, който сигнализира, че разстоянието до железопътния прелез е:</b></p> <p>80 м</p> <p>160 м</p> <p>240 м</p>	
2	2/40.2	<p><b>На показаната схема с буква „в“ е означен пътният знак, който сигнализира, че разстоянието до железопътния прелез е:</b></p> <p>80 м</p> <p>160 м</p> <p>240 м</p>	