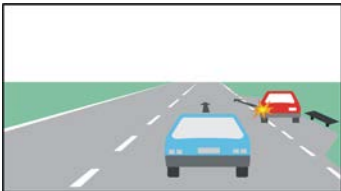
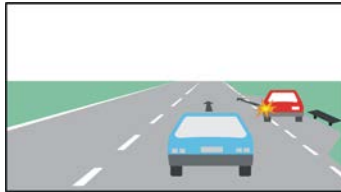

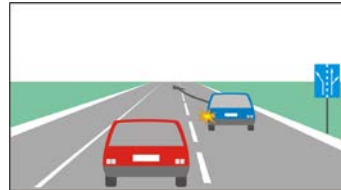










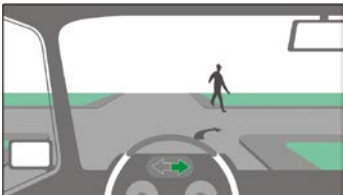



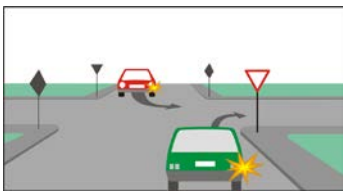
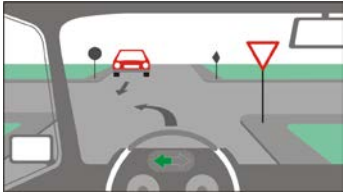



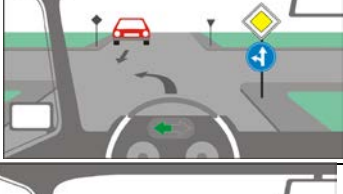



тема: 7. МАНЕВРИ

точки	К	№	въпрос, отговори	графика
3		7/2	<p>Преди да предприеме маневра водачът трябва да се убеди, че няма да създаде опасност за участниците в движението, като:</p> <p>трябва да се съобрази с тяхното положение</p> <p>трябва да се съобрази с посоката им на движение</p> <p>трябва да се съобрази със скоростта им на движение</p> <p>не е задължен да се съобразява със сигналите, които подават</p>	
3		7/3	<p>При тази ситуация с предимство е:</p> <p>синият автомобил</p> <p>червеният автомобил</p>	
3		7/4	<p>При тази ситуация, водачът на червения автомобил:</p> <p>трябва да пропусне синия автомобил</p> <p>е с предимство защото се намира отдясно</p> <p>е с предимство защото е подал сигнал за маневра</p>	
3		7/5	<p>При тази ситуация, водачът на червения автомобил:</p> <p>трябва да пропусне синия автомобил, защото навлиза в лентата, по която той се движи</p> <p>преди да се включи в движението трябва да се убеди, че няма да създаде опасност за другите участници в него</p> <p>е с предимство защото се намира отдясно</p>	
3		7/6	<p>Преди да се включи в движението, водачът на ППС е длъжен:</p> <p>да се убеди, че няма да създаде опасност за другите участници в движението</p> <p>да подаде сигнал със съответния пътепоказател</p> <p>да подаде звуков или светлинен сигнал с фаровете, с което да си осигури предимство</p> <p>да изчака сигнал от другите водачи, че може да потегли</p>	
3		7/7	<p>Преди отклонение встрани, за навлизане в съседна пътна лента, водачът:</p> <p>трябва да подаде сигнал със съответния пътепоказател</p> <p>трябва да се убеди, че няма да създаде опасност за другите участници в движението</p> <p>трябва да пропусне ППС, които се движат по тази лента</p> <p>трябва да пропусне ППС движещи се по нея, само ако тази лента е за насрещното движение</p>	
3		7/8.0	<p>При тази ситуация с предимство е водачът:</p> <p>на червения автомобил</p> <p>на синия автомобил</p>	

3		7/8.1	<p>Кой от водачите е с предимство при тази ситуация?</p> <p>водачът на лекия автомобил</p> <p>водачът на товарния автомобил</p>	
3		7/9	<p>При тази ситуация кой от водачите трябва да осигури предимство?</p> <p>на товарния автомобил, защото навлиза в съседната пътна лента</p> <p>на товарния автомобил, защото се намира отдясно</p> <p>на лекия автомобил, защото не е подал сигнал за маневра</p> <p>на лекия автомобил, защото е по-назад от товарния</p>	
3		7/10	<p>При тази ситуация с предимство е:</p> <p>водачът на синия автомобил</p> <p>водачът на червения автомобил</p>	
3		7/11	<p>При тази ситуация с предимство е водачът на автомобила, който:</p> <p>се намира отдясно</p> <p>се намира отляво</p> <p>първи е подал сигнал за маневра</p> <p>е по-напред от другия</p>	
3		7/12	<p>При тази ситуация водачът на лекия автомобил:</p> <p>трябва да пропусне товарния автомобил, защото навлиза в заемащата от него пътна лента</p> <p>е с предимство при заобикалянето, защото е подал сигнал за маневрата</p> <p>е с предимство защото е по-близо до препятствието</p>	
3		7/13	<p>Кой от водачите е с предимство при тази ситуация?</p> <p>водачът на товарния автомобил</p> <p>водачът на лекия автомобил</p> <p>водачът на автомобила, който пръв достигне до препятствието</p>	
3		7/14	<p>Когато има остров в средата на пътно платно с двупосочно движение, водачът:</p> <p>трябва да премине от неговата дясна страна</p> <p>трябва да премине от неговата лява страна</p> <p>може да премине от неговата дясна или лява страна</p>	
3		7/15.0	<p>Когато на кръстовище пътните ленти не са обозначени с пътна маркировка за движение в съответна посока, завиването надясно е разрешено да се извършва:</p> <p>от най-дясната част на платното за движение от която и да е част на платното за движение, ако радиусът на завиване на автомобила е по-голям от радиуса на завоя</p> <p>във всички случаи от най-удобната за водача пътна лента</p>	

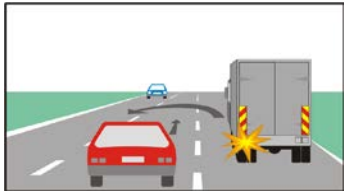


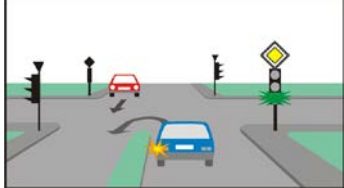
3		7/15.1	<p>Когато на кръстовище пътните ленти са обозначени за движение в съответна посока, завиването надясно може да се извърши:</p> <p>от пътна лента обозначена за завиване надясно от която и да е пътна лента, ако радиусът на завиване на автомобила е по-голям от радиуса на завоя от най-дясната пътна лента по посока на движението</p> <p>във всички случаи от най-удобната за водача пътна лента</p>	
3		7/16.	<p>Разрешено ли е да започнете завиването надясно от най-лявата пътна лента на платното за движение?</p> <p>да, но само когато радиусът на завиване на автомобила е по-голям от радиуса на завоя да, винаги когато пътните ленти не са обозначени с пътна маркировка да, във всички случаи не</p>	
3		7/17.	<p>Коя линия указва правилната траектория за движение при завиване надясно?</p> <p>червената синята</p>	
3		7/18	<p>Завиването наляво може да се извършва:</p> <p>от най-лявата пътна лента по посока на движението от всяка лента, обозначена за завиване наляво от най-лявата част на еднопосочно пътно платно от най-удобната за водача пътна лента</p>	
3		7/19	<p>Коя линия указва правилната траектория за движение при завиване наляво?</p> <p>синята червената и двете</p>	
3		7/21.0	<p>При тази ситуация трябва да пропусна пешеходеца.</p> <p>правилно неправилно</p>	
3		7/21.1	<p>При тази ситуация:</p> <p>трябва да пропусна пешеходеца не съм задължен да пропусна пешеходеца, защото завивам надясно не съм задължен да пропусна пешеходеца, защото той не е достигнал средата на платното за движение</p>	
3		7/22.0	<p>При тази ситуация трябва:</p> <p>да пропусна пешеходеца да премина преди пешеходеца</p>	

3		7/22.1	<p>При тази ситуация:</p> <p>трябва да пропусна пешеходеца мога да премина преди пешеходеца, ако той се движи бавно не съм задължен да пропусна пешеходеца, защото пешеходната пътека не е маркирана</p>	
3		7/23	<p>При тази ситуация съм с предимство и не съм задължен да пропусна пешеходеца:</p> <p>неправилно правилно</p>	
3		7/24.0	<p>При тази ситуация трябва да пропусна пешеходеца.</p> <p>правилно неправилно</p>	
3		7/24.1	<p>При тази ситуация трябва да пропусна пешеходеца.</p> <p>правилно неправилно</p>	
3		7/27.0	<p>При тази ситуация задължени ли сте да пропуснете червения автомобил?</p> <p>да не</p>	
3		7/27.1	<p>При тази ситуация трябва:</p> <p>да пропусна червения автомобил да премина преди червения автомобил</p>	
3		7/27.2	<p>При тази ситуация трябва:</p> <p>да пропусна червения автомобил да премина преди червения автомобил</p>	
3		7/28	<p>При тази ситуация трябва:</p> <p>да премина преди червения автомобил да пропусна червения автомобил</p>	
3		7/29	<p>При тази ситуация с предимство е:</p> <p>автомобилът, който завива надясно автомобилът, който завива наляво</p>	

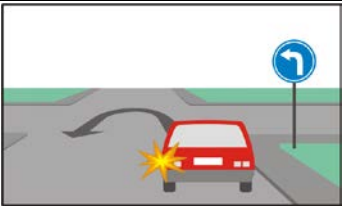
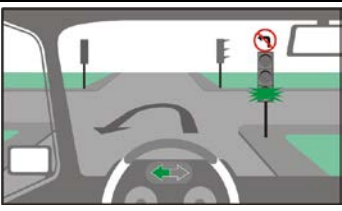

3		7/30.0	<p>При тази ситуация:</p> <p>водачът на зеления автомобил е задължен да пропусне червения автомобил</p> <p>водачът на червения автомобил е задължен да пропусне зеления автомобил</p>	
3		7/30.1	<p>Как ще постъпите при тази ситуация?</p> <p>пропускам червения автомобил</p> <p>преминавам преди червения автомобил</p>	
3		7/31.2	<p>При тази ситуация синият автомобил е с предимство.</p> <p>правилно</p> <p>неправилно</p>	
3		7/31.3	<p>При тази ситуация съм задължен да пропусна синия автомобил.</p> <p>неправилно</p> <p>правилно</p>	
3		7/32.0	<p>При тази ситуация съм с предимство за преминаване преди червения автомобил.</p> <p>неправилно</p> <p>правилно</p>	
3		7/32.1	<p>При тази ситуация съм с предимство пред червения автомобил:</p> <p>неправилно</p> <p>правилно</p>	
3		7/33.2	<p>При тази ситуация червеният автомобил е с предимство.</p> <p>неправилно</p> <p>правилно</p>	
3		7/33.3	<p>При тази ситуация с предимство е:</p> <p>червеният автомобил</p> <p>синият автомобил</p>	
3		7/33.4	<p>При тази ситуация трябва да пропусна синия автомобил.</p> <p>правилно</p> <p>неправилно</p>	

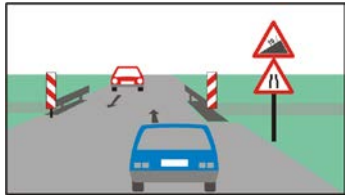




3		7/34.0	<p>При тази ситуация трябва да премина преди червения автомобил.</p> <p>неправилно</p> <p>правилно</p>	
3		7/34.1	<p>При тази ситуация трябва:</p> <p>да премина преди автомобила и пешеходеца</p> <p>да пропусна автомобила</p> <p>да пропусна пешеходеца</p>	
3		7/35	<p>При тази ситуация водачът на товарния автомобил:</p> <p>трябва да пропусне двата автомобила, защото излиза от гараж</p> <p>трябва да пропусне пешеходците</p> <p>е с предимство пред синия автомобил, защото се намира от дясната му страна</p>	
3		7/37.0	<p>При тази ситуация съм с предимство, защото се движа направо.</p> <p>неправилно</p> <p>правилно</p>	
3		7/37.1	<p>При тази ситуация преминавам с предимство преди трамвая.</p> <p>неправилно</p> <p>правилно</p>	
3		7/37.2	<p>При тази ситуация с предимство ли сте пред трамвая, който завива?</p> <p>не</p> <p>да</p>	
3		7/38	<p>При тази ситуация задължени ли сте да пропуснете трамвая?</p> <p>да, защото е релсово ППС</p> <p>не, защото се движа направо</p>	
3		7/39	<p>При тази ситуация с предимство е водачът на:</p> <p>трамвая</p> <p>лекия автомобил</p>	
3		7/40.	<p>При тази ситуация водачът на автомобила длъжен ли е да пропусне трамвая?</p> <p>да</p> <p>не</p>	






3		7/41.0	<p>При тази ситуация водачът на автомобила задължен ли е да пропусне трамвая?</p> <p>да не</p>	
3		7/41.1	<p>При тази ситуация водачът на лекия автомобил не е задължен да пропусне трамвая.</p> <p>неправилно правилно</p>	
3		7/42	<p>При тази ситуация синият автомобил трябва да премине преди трамвая.</p> <p>неправилно правилно</p>	
3		7/43	<p>Когато е разрешено едновременното им преминаване, водачът на нерелсово ППС е длъжен да пропусне релсовото:</p> <p>винаги, независимо от местоположението му винаги, независимо от посоката му на движение</p> <p>само когато релсовото ППС се намира от дясната му страна само в случаите, когато релсовото превозно средство не завива</p>	
3		7/44.0	<p>На кръстовище на равнозначни пътища водачът на нерелсово ППС:</p> <p>трябва да пропусне релсовите ППС, когато те завиват надясно не е длъжен да пропусне релсовите ППС, когато те завиват наляво</p> <p>трябва да пропусне релсовите ППС, когато те продължават на право</p>	
3		7/44.1	<p>На кръстовище на равнозначни пътища водачът на нерелсово пътно превозно средство е длъжен да пропусне релсовите ППС:</p> <p>само когато релсовите ППС се намират от дясната му страна само когато релсовите ППС се намира от лявата му страна само когато релсовите ППС са в насрещното движение</p> <p>винаги, независимо от местоположението им</p>	
3		7/45.0	<p>При тази ситуация с предимство е:</p> <p>трамваят, който завива надясно трамваят, който завива наляво</p>	

3		7/46	<p>При завиване наляво за навлизане в друг път водачът на завиващото релсово ППС е длъжен да пропусне насрещно движещите се:</p> <p>трамваи тролейбуси леки автомобили мотоциклети</p>	
2		7/47	<p>Как се извършва завиването в обратна посока?</p> <p>чрез движение със завиване наляво чрез движение със завиване надясно</p>	
2		7/48.0	<p>Завиването в обратна посока може да започне:</p> <p>от най-лявата пътна лента по посока на движението от дясната част на платното за движение, когато е с недостатъчна широчина от най-удобната за водача пътна лента</p>	
2		7/48.1	<p>Завиването в обратна посока от крайната дясна лента е:</p> <p>разрешено при недостатъчна широчина на платното за движение разрешено във всички случаи забранено</p>	
2		7/49.0	<p>Когато при недостатъчна широчина на платното за движение завиването в обратна посока започва от дясната пътна лента, водачът на завиващото ППС:</p> <p>трябва да пропусне насрещно движещите се ППС трябва да пропусне попътно движещите се от лявата му страна ППС е с предимство пред насрещно движещите се ППС е с предимство пред попътно движещите се от лявата му страна ППС</p>	
2		7/49.1	<p>При тази ситуация с предимство е:</p> <p>водачът на лекия автомобил водачът на товарния автомобил</p>	
2		7/50	<p>При тази ситуация с предимство е:</p> <p>водачът на товарния автомобил водачът на лекия автомобил</p>	
2		7/51	<p>При тази ситуация с предимство е водачът на:</p> <p>червения автомобил синия автомобил</p>	





2		7/52	<p>Завиването в обратна посока на мост е: забранено разрешено, когато широчината на платното за движение е над 12 м разрешено, когато видимостта е над 50 м разрешено, без ограничение</p>	
2		7/53	<p>Завиването в обратна посока е забранено, когато видимостта е намалена под: 50 м 250 м 150 м 100 м</p>	
2		7/54	<p>Завиването в обратна посока е забранено: на жп прелез когато видимостта е намалена под 50 м в тунел на участък от пътя с наклон</p>	
2		7/55	<p>Завиването в обратна посока е забранено: на мост на пешеходна пътека при ограничена видимост на участък от пътя в ремонт</p>	
2		7/56	<p>Завиването в обратна посока е забранено: на жп прелез на надлез на пешеходна пътека на път с интензивно движение</p>	
2		7/57.0	<p>Завиването в обратна посока е забранено: на жп прелез в тунел когато с пътен знак е ограничена скоростта на движение на 10 м преди пешеходна пътека</p>	
2		7/57.1	<p>Завиването в обратна посока е забранено: на пешеходна пътека при ограничена видимост на участък от пътя в ремонт на 160 м преди жп прелез</p>	
2		7/57.2	<p>Завиването в обратна посока е забранено: в тунел при ограничена видимост на участък от пътя в ремонт на път с интензивно движение</p>	
2		7/58.0	<p>При тази ситуация разрешено ли е да завиете в обратна посока? не да</p>	




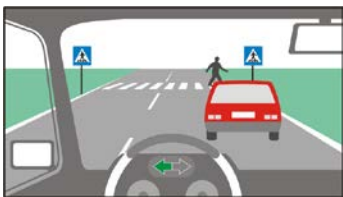
2		7/58.1	<p>При тази ситуация разрешено ли е завиването в обратна посока?</p> <p>не да</p>	
2		7/59	<p>При тази ситуация разрешено ли е да завиете в обратна посока?</p> <p>да не</p>	
2		7/60	<p>При тази ситуация водачът на червения автомобил извършва ли нарушение?</p> <p>да не</p>	
2		7/61	<p>При разминаване на два автомобила задължението за осигуряване на необходимата странична дистанция е:</p> <p>на двамата водачи на водача на автомобила с по-големи габарити на водача на автомобила, който се движи с по-висока скорост на водача на автомобила с по-голяма обща маса</p>	
2		7/62	<p>Когато, при голям надлъжен наклон, за разминаване на единично ППС със състав от ППС е необходимо движение назад, то се извършва от:</p> <p>единичното превозно средство ППС, което се изкачва по наклона ППС, което се спуска по наклона състава от ППС</p>	
2		7/63	<p>Когато, на път с голям надлъжен наклон, за разминаването на лек с товарен автомобил е необходимо движение назад, то се извършва от:</p> <p>лека автомобил товарния автомобил автомобила, който се изкачва по наклона автомобила, който се спуска по наклона</p>	
2		7/64	<p>Когато, при голям надлъжен наклон, за разминаване на товарен автомобил с автобус е необходимо движение назад, то се извършва от:</p> <p>товарния автомобил ППС, което се изкачва по наклона ППС, което се спуска по наклона автобуса</p>	
2		7/65	<p>На път с голям надлъжен наклон, когато разминаването е невъзможно и редът за преминаване не е уреден с пътни знаци, предимство има ППС, което:</p> <p>се изкачва по наклона се спуска по наклона се движе по-бързо се намира по-близо до стеснения участък</p>	

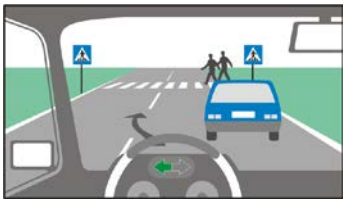
2		7/66	<p>При тази ситуация задължен да пропусне насрещно движещото се превозно средство е водачът на:</p> <p>червения автомобил синия автомобил</p>	
2		7/67	<p>При тази ситуация червеният автомобил е с предимство за преминаване през стеснения участък от пътя.</p> <p>правилно неправилно</p>	
2		7/68.0	<p>Как трябва да постъпите при тази ситуация, след като червеният автомобил е навлязъл в стеснения участък?</p> <p>длъжен съм да пропусна червения автомобил</p> <p>трябва да продължа движението си, защото съм с предимство трябва да подам сигнал към червения автомобил за да ми осигури предимство</p>	
2		7/68.1	<p>При тази ситуация водачът на синия автомобил:</p> <p>трябва да пропусне автомобила, който вече е навлязъл в стеснения участък</p> <p>е с предимство и трябва да продължи движението си</p>	
2		7/69	<p>Този пътен знак сигнализира, че:</p> <p>навлизането след него е разрешено, ако пътят е свободен навлизането след него е забранено навлизането след него е разрешено във всички случаи движението след знака е двупосочно</p>	
3		7/71.0	<p>Кое от изброените действия е задължително при маневрата изпреварване?</p> <p>подаване на сигнал за отклонение наляво подаване на сигнал за отклонение надясно подаване на звуков сигнал, когато маневрата се извършва в населено място включване на дългите светлини</p>	
3		7/71.1	<p>Как трябва да сигнализирате, когато при завършване на изпреварването се връщате в напуснатата лента?</p> <p>с включен десен пътепоказател с включен ляв пътепоказател връщането в напуснатата лента не се сигнализира</p>	





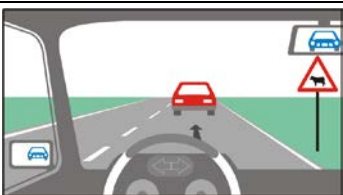
3		7/72.	<p>Изпреварването на товарен автомобил е по-рисковано от изпреварването на лек автомобил защото:</p> <p>дължината на товарните автомобили е по-голяма от тази на леките автомобили</p> <p>видимостта напред при движение зад товарен автомобил е по-ограничена</p> <p>спирачките на товарните автомобили не са толкова ефективни</p> <p>товарните автомобили изкачват стръмните наклони по-бавно</p>	
3		7/73	<p>Как трябва да постъпите когато автомобилът който ви изпреварва се прибере в лентата, по която се движите, без да осигури необходимата дистанция?</p> <p>трябва да намалите скоростта</p> <p>трябва да преминете в лявата лента</p> <p>трябва да продължите движението си със същата скорост</p> <p>трябва да подадете светлинен сигнал</p>	
3		7/74	<p>Този пътен знак забранява изпреварването:</p> <p>на МПС, с изключение на мотоциклети без кош и мотопеди</p> <p>на всички ППС</p> <p>само на леки автомобили</p>	
3		7/75.1	<p>Кое от изброените ППС е разрешено да изпреварват след този пътен знак?</p> <p>мотоциклет без кош</p> <p>мотопед</p> <p>трактор</p> <p>съчленен автобус</p>	
3		7/75.2	<p>Кое от изброените ППС е разрешено да изпреварват след този пътен знак?</p> <p>велосипед</p> <p>каруца</p> <p>трактор</p> <p>товарен автомобил</p>	
3		7/76.1	<p>Кое от изброените ППС е забранено да изпреварват след този пътен знак?</p> <p>трактор</p> <p>товарен автомобил</p> <p>мотопед</p> <p>велосипед</p>	
3		7/76.2	<p>Кое от изброените ППС е забранено да изпреварват след този знак?</p> <p>лек автомобил</p> <p>съчленен автобус</p> <p>мотоциклет без кош</p> <p>каруца</p>	


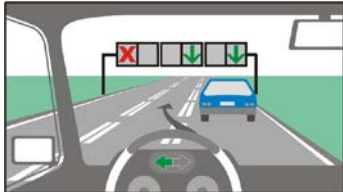



3		7/77	След този пътен знак забраната да изпреварват се отнася за водачите на товарни автомобили с допустима максимална маса над: 1,5 т 3,5 т 5,5 т 7,5 т	
3		7/78	След този пътен знак на водачите на товарни автомобили с допустима максимална маса над 3,5 т е разрешено да изпреварват: мотоциклети без кош мотопеди леки автомобили автобуси	
3		7/79.0	След този пътен знак на водачите на товарни автомобили с допустима максимална маса до 3,5 т е разрешено да изпреварват: мотоциклети без кош мотопеди автобуси трактори	
3		7/79.1	След този пътен знак на водачите на товарни автомобили с допустима максимална маса до 3,5 т е разрешено да изпреварват: велосипеди каруци леки автомобили товарни автомобили	
3		7/80	След този пътен знак разрешено ли е на водачите на товарни автомобили да изпреварват други автомобили? да не	
3		7/81	Разрешено ли е да продължите изпреварването при тази ситуация? не да	
3		7/82	Разрешено ли е да продължите изпреварването при тази ситуация? не да	
3		7/83	Разрешено ли е да изпреварите мотоциклетиста при тази ситуация? да не	

3		7/84	<p>Разрешено ли е да предприемете изпреварване при тази ситуация?</p> <p>не да</p>	
3		7/85	<p>Разрешено ли е да предприемете изпреварване, когато автомобилът зад вас е подал сигнал за отклонение наляво?</p> <p>не да</p>	
3		7/86	<p>Разрешено ли е изпреварването при тази ситуация?</p> <p>не да</p>	
3		7/87	<p>Изпреварването е забранено, когато:</p> <p>при използване на пътна лента за насрещното движение не е възможно безпрепятственото връщане в напуснатата лента</p> <p>видимостта е ограничена</p> <p>изпреварващият автомобил е с повредени пътепоказатели</p> <p>се извършва по двулентов двупосочен път</p>	
3		7/88	<p>Разрешено ли е да предприемете изпреварване на колоната от МПС при тази ситуация?</p> <p>не да</p>	
3		7/90	<p>Изпреварването на МПС, с изключение на мотопеди и мотоциклети без кош, е забранено:</p> <p>при използване на пътна лента за насрещно движение, когато изпреварващият не може да се върне безпрепятствено в напуснатата пътна лента</p> <p>пред и върху сигнализирана пешеходна пътека</p> <p>в стеснен участък от пътя</p> <p>на железопътен прелез с бариери</p>	
3		7/91	<p>Изпреварването на МПС, с изключение на мотопеди и мотоциклети без кош, е забранено:</p> <p>при ограничена видимост, когато разстоянието е по-малко от необходимото за изпреварване</p> <p>пред и върху сигнализирана пешеходна пътека</p> <p>на път с еднопосочно движение</p> <p>на мост</p>	
3		7/92.0	<p>Изпреварването на МПС, с изключение на мотопеди и мотоциклети без кош, е забранено:</p> <p>на кръстовище на равнозначни пътища</p> <p>на железопътен прелез без бариери</p> <p>при използване на пътна лента за насрещно движение, когато изпреварващият не може да се върне безпрепятствено в напуснатата пътна лента</p> <p>в тунел</p>	

3		7/92.1	<p>Изпреварването на МПС, с изключение на мотопеди и мотоциклети без кош, е забранено:</p> <p>при намалена видимост, когато разстоянието е по-малко от необходимото за изпреварване</p> <p>пред и върху сигнализирана пешеходна пътека на надлез</p> <p>при движение през нощта</p>	
3		7/92.2	<p>Изпреварването на МПС, с изключение на мотопеди и мотоциклети без кош, е забранено:</p> <p>на кръстовище на равнозначни пътища</p> <p>на железопътен прелез без бариери</p> <p>пред пешеходна пътека, когато изпреварването превозно средство закрива видимостта към пешеходната пътека</p> <p>на пътища с двупосочно движение</p>	
3		7/93	<p>Разрешено ли е изпреварването при тази ситуация?</p> <p>не</p> <p>да</p>	
3		7/94	<p>При тази ситуация изпреварването е:</p> <p>забранено, защото видимостта е ограничена</p> <p>забранено, защото пътят е неравен</p> <p>забранено, защото пътят е с голям наклон</p> <p>разрешено</p>	
3		7/95	<p>Разрешено ли е при изпреварване да използвате превключването на светлините като допълнителен сигнал?</p> <p>да</p> <p>не</p>	
3		7/96	<p>При тази ситуация разрешено ли е да продължите изпреварването?</p> <p>не</p> <p>да</p>	
3		7/97	<p>Изпреварването пред и върху пешеходна пътека е забранено винаги когато:</p> <p>пешеходната пътека е сигнализирана</p> <p>изпреварването превозно средство закрива видимостта към пешеходната пътека</p> <p>пешеходната пътека не е осветена</p> <p>пешеходната пътека е на път извън населено място</p>	
3		7/98	<p>При тази ситуация, когато пешеходецът напуска платното за движение и имам видимост към пешеходната пътека, е разрешено да продължа изпреварването.</p> <p>неправилно</p> <p>правилно</p>	

3		7/99	<p>При тази ситуация:</p> <p>прекратявам изпреварването</p> <p>продължавам изпреварването, като ускорявам, за да премина, преди пешеходците да са навлезли в лявата лента</p> <p>продължавам изпреварването, като предупреждавам пешеходците със звуков сигнал</p>	
3		7/100	<p>При изпреварване се преминава от лявата страна на изпреварваното ППС:</p> <p>правилно</p> <p>неправилно</p>	
3		7/101	<p>При изпреварване водачът на изпреварваното ППС длъжен ли е да не увеличава скоростта?</p> <p>да</p> <p>не</p>	
3		7/102	<p>Водачът на изпреварваното ППС е длъжен :</p> <p>да не увеличава скоростта</p> <p>да не пречи на изпреварването</p> <p>да намали скоростта</p> <p>да премине плътно вдясно</p>	
3		7/103	<p>Ако през нощта, при започване на изпреварване, водачът на превозното средство бъде заслепен, той трябва:</p> <p>да прекрати изпреварването и се върне в дясната лента</p> <p>да продължи изпреварването, като се приближи до изпреварваното превозно средство</p> <p>да продължи изпреварването, като включи дългите светлини</p> <p>да прекрати изпреварването, като спре незабавно в лентата в която се движи</p>	
3		7/104	<p>При изпреварване задължението за осигуряване на достатъчно странично разстояние е:</p> <p>на водача на изпреварващото ППС</p> <p>на водача на изпреварваното ППС</p> <p>на двамата водачи</p>	
3		7/105	<p>Водач, който ще предприеме изпреварване, преди да подаде сигнал е длъжен да се убеди, че:</p> <p>не го изпреварва друго пътно превозно средство</p> <p>движещото се след него ППС не е подало сигнал за изменение на посоката си на движение наляво</p> <p>ППС, което ще изпреварва, не е подало сигнал за изменение на посоката си на движение наляво</p> <p>че водачите от насрещното движение ще спрат за да го пропуснат</p>	
3		7/106.0	<p>Водач, който ще предприеме изпреварване, след като подаде сигнал е длъжен да се убеди, че:</p> <p>има видимост на достатъчно разстояние</p> <p>има свободен път на разстояние, достатъчно за изпреварване</p> <p>няма да принуждава изпреварваното ППС да намалява скоростта или да изменя посоката на движение</p> <p>че водачът на изпреварвания автомобил е започнал да намалява скоростта на движение</p>	

3		7/106.1	<p>Водач, който ще предприеме изпреварване, след като подаде сигнал е длъжен да се убеди, че:</p> <p>има свободен път на разстояние, достатъчно за изпреварване</p> <p>може да заеме място в пътната лента пред изпреварваното пътно превозно средство</p> <p>няма да принуждава изпреварваното ППС да намалява скоростта или да изменя посоката на движение</p> <p>че водачът на изпреварвания автомобил е превключил на по-ниска предавка</p>	
3		7/107	<p>Водач, който изпреварва, е длъжен:</p> <p>да осигури достатъчно странично разстояние между своето и изпреварваното ППС</p> <p>когато навлиза в лента за насрещното движение, да не създава опасност за превозните средства, движещи се по нея</p> <p>да се убеди, че с безопасна скорост, може да извърши изпреварването за кратко време</p> <p>да се движи в непосредствена близост до изпреварваното превозно средство</p>	
3		7/108	<p>Как ще постъпите при тази ситуация, когато автомобилът зад вас е подал сигнал за отклонение вляво?</p> <p>намалявам скоростта и пропускам автомобила зад мен</p> <p>подавам сигнал и заобикалям повредения автомобил, преди автомобила, който се движи зад мен</p>	
3		7/109	<p>Разрешено ли е изпреварването при тази ситуация?</p> <p>да не</p>	
3		7/110	<p>Разрешено ли е да предприемете изпреварване при тази ситуация?</p> <p>да не</p>	
3		7/111	<p>Разрешено ли е да продължите изпреварването при тази ситуация?</p> <p>да не</p>	
3		7/112	<p>Разрешено ли е да изпреварите при тази ситуация?</p> <p>да не</p>	

3		7/113	<p>Длъжни ли сте при тази ситуация да сигнализирате с ляв пътепоказател, че започвате изпреварването?</p> <p>да не</p>	
3		7/114	<p>Разрешено ли е да предприемете изпреварване при тази ситуация?</p> <p>не да</p>	
3		7/115.0	<p>При тази ситуация водачът на синия автомобил:</p> <p>трябва да прекрати изпреварването</p> <p>може да продължи изпреварването, като премине по трамвайната линия</p>	
3		7/115.1	<p>При тази ситуация разрешено ли е да преминете по трамвайните линии, за да изпреварите товарния автомобил?</p> <p>не да</p>	
3		7/116	<p>При тази ситуация разрешено ли е да заобиколите трамвая отляво за да не пречите на слизащите и качващите се пътници?</p> <p>не да</p>	
2		7/117	<p>Какво трябва да направи водачът на МПС когато видимостта при движение назад е ограничена?</p> <p>да осигури човек, който да сигнализира за опасност</p> <p>да отвори вратата и да гледа назад</p> <p>да отвори страничното стъкло за да гледа назад</p>	
2		7/118	<p>Движението назад при ограничена видимост е:</p> <p>разрешено само ако е осигурено лице, което да сигнализира при поява на опасност</p> <p>разрешено, ако има огледало за виждане назад</p> <p>забранено</p>	
2		7/119.0	<p>Разрешено ли е движение назад при завиване в обратна посока на кръстовище?</p> <p>не да</p>	
2		7/119.1	<p>Разрешено ли е движение назад при завиване в обратна посока на път извън кръстовище?</p> <p>да не</p>	